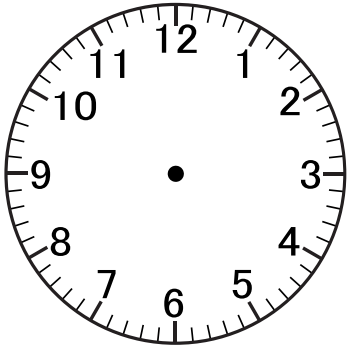


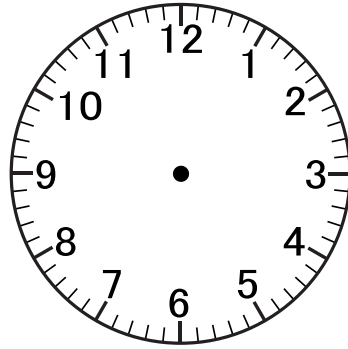
การบอกเวลา



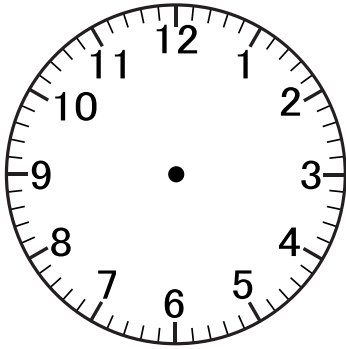
คำชี้แจง : ให้นักเรียนวาดเข็มนาฬิกาตามเวลาที่กำหนดให้



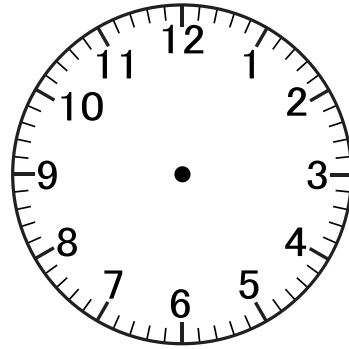
เวลา : 15 นาที 45 นาที



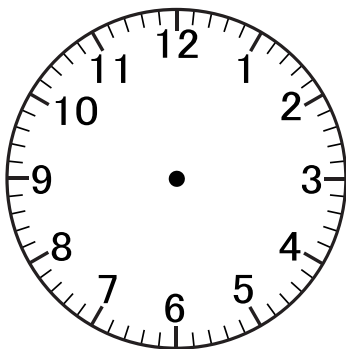
เวลา : 01 นาที 15 นาที



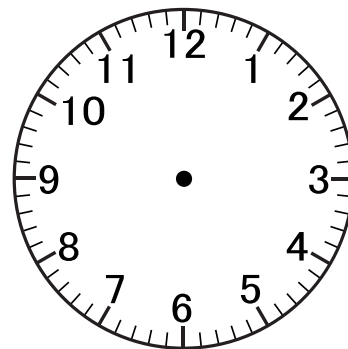
เวลา : 23 นาที 30 นาที



เวลา : 08 นาที 5 นาที



เวลา : 12 นาที 25 นาที




เวลา : 19 นาที 20 นาที

ชื่อ..... ชั้น..... เลขที่.....


การบอกเวลา




คำชี้แจง : ให้นักเรียนบอกเวลาให้ถูกต้องจากนาฬิกาที่กำหนดให้




กลางวัน :นาฬิกา.....นาที
กลางคืน :นาฬิกา.....นาที




กลางวัน :นาฬิกา.....นาที
กลางคืน :นาฬิกา.....นาที




กลางวัน :นาฬิกา.....นาที
กลางคืน :นาฬิกา.....นาที



กลางวัน :นาฬิกา.....นาที
กลางคืน :นาฬิกา.....นาที



กลางวัน :นาฬิกา.....นาที
กลางคืน :นาฬิกา.....นาที



กลางวัน :นาฬิกา.....นาที
กลางคืน :นาฬิกา.....นาที

ชื่อ.....ชั้น.....เลขที่.....